



Aku Dapat

Berphitung



T

ingkat



Aku Dapat Berhitung - 1

Diadaptasikan dengan beberapa perubahan oleh:
Ummu Abdullah

Dari: <http://www.salafyink.com>

Desain sampul:
Ummu Zaidan

Disebarluaskan melalui
<http://raudhatulmuhibbin.blogspot.com>



eMail:
raudhatul.muhibbin@yahoo.co.id

Tanpa copyright, tidak untuk tujuan komersil


بِسْمِ اللَّهِ الرَّحْمَنِ الرَّحِيمِ

Petunjuk Bagi Orang Tua dan Guru

Buku ini diperuntukkan bagi anak-anak usia pra sekolah, dimaksudkan untuk memperkenalkan angka-angka sekaligus beberapa bentuk bidang, seperti lingkaran, dan sebagainya. Untuk anak-anak yang belum dapat membaca maka orang tua dan guru perlu membacakan pertanyaan yang dimaksud kepada anak.


Pada bagian akhir dari buku ini terdapat latihan untuk mengulangi kembali angka-angka dan bentuk-bentuk yang telah dipelajari oleh anak. Pada bagian ini ada pertanyaan yang jawabannya dibuat sedemikian rupa sehingga anak harus memilih bentuk yang dimaksud dalam pertanyaan dan menuliskan jumlahnya, dengan maksud untuk melihat sejauh mana anak dapat mengetahui nama dan membedakan bentuk-bentuk gambar yang telah dipelajarinya.

Berapakah jumlah bintang ini?

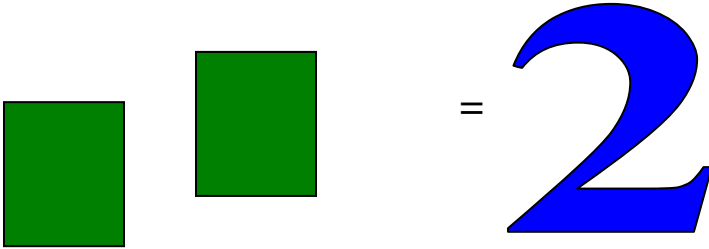


Tuliskanlah angka 1


Warnailah gambar berikut ini dengan warna kuning



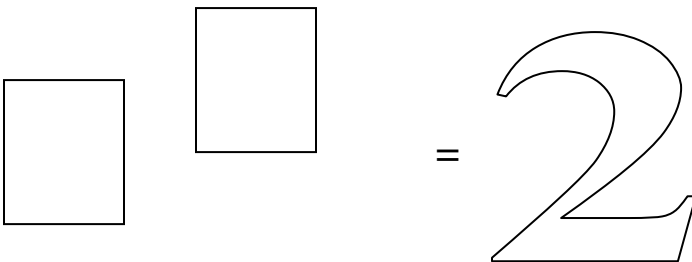
Berapakah jumlah kotak segi empat ini?



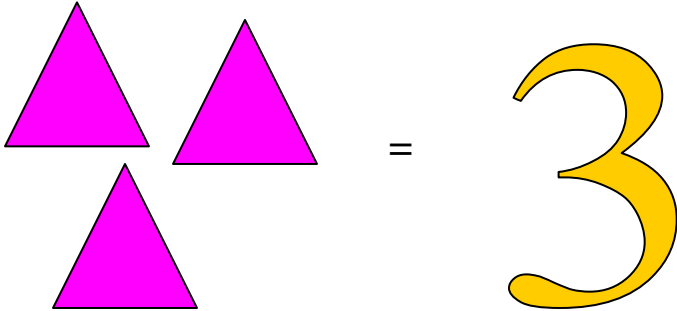
Tuliskanlah angka 2



Warnailah dengan warna biru

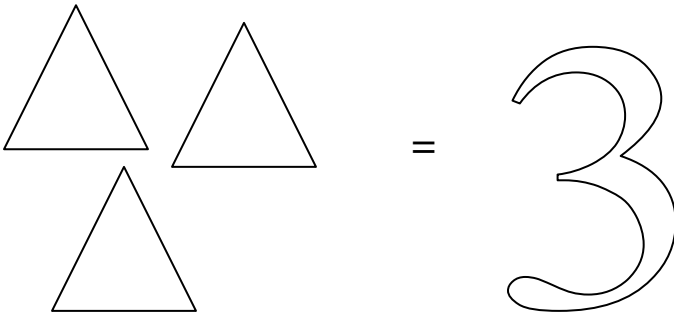


Berapakah jumlah segi tiga ini?

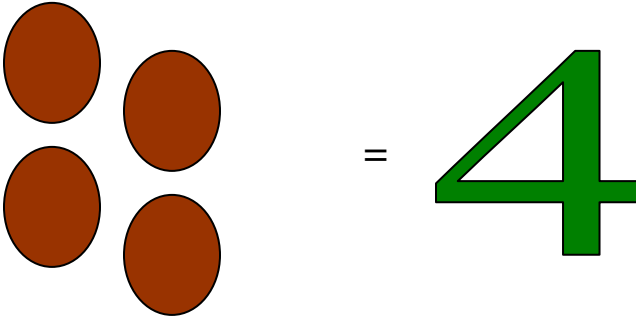


Tuliskanlah angka 3

Warnailah dengan warna oranye



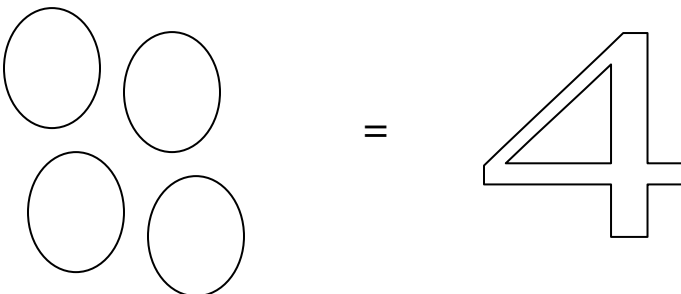
Berapakah jumlah lingkaran di bawah ini



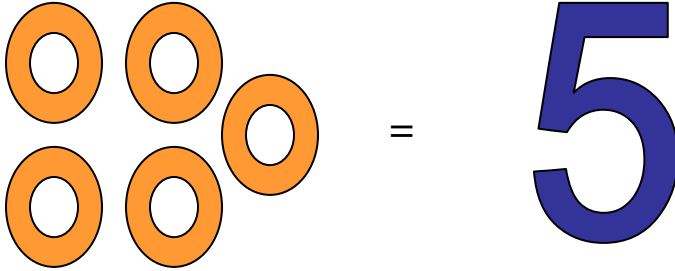
Tuliskanlah angka 4



Warnailah dengan warna hijau tua

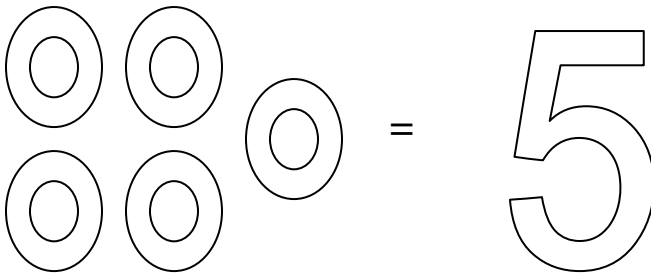


Berapakah banyak donat dibawah ini?

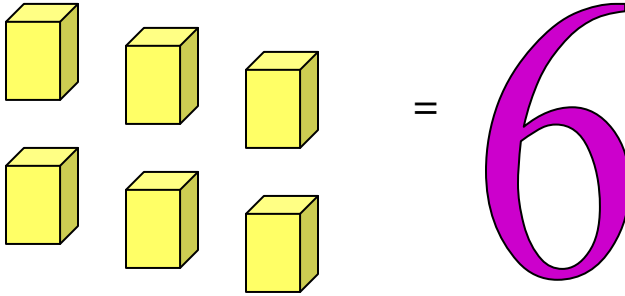


Tuliskanlah angka 5

Warnailah dengan warna biru tua

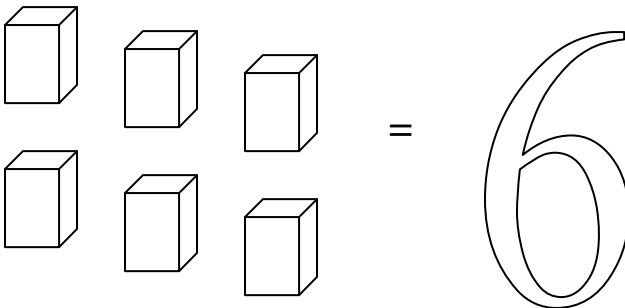


Berapakah banyak gambar kotak di bawah ini?




Tuliskanlah angka 6

Warnailah dengan warna ungu




Berapakah banyaknya gambar matahari ini?

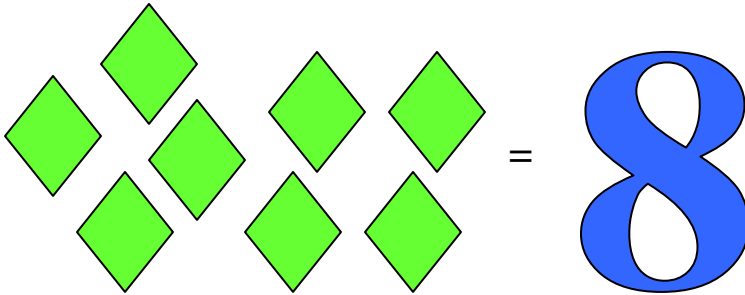


Tuliskanlah angka 7

Warnailah dengan warna kuning




Berapa banyaknya gambar belah ketupat ini?

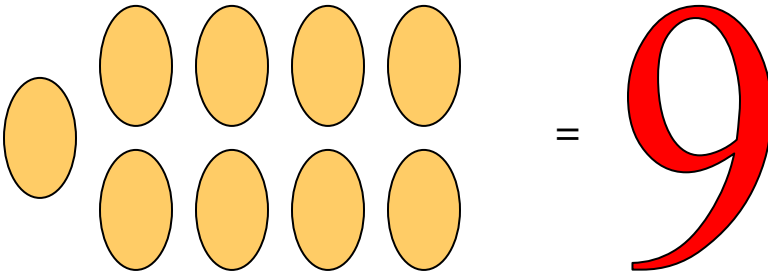


Tuliskanlah angka 8

Warnailah dengan warna hijau muda

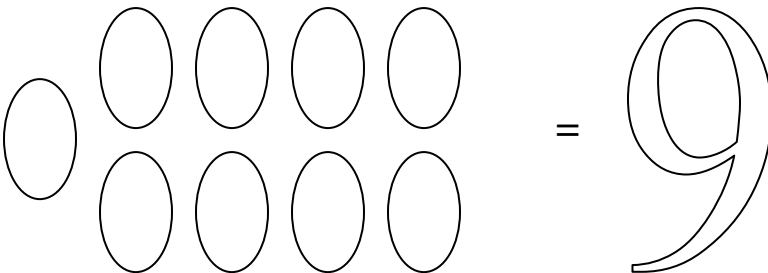


Berapakah banyaknya oval di bawah ini?

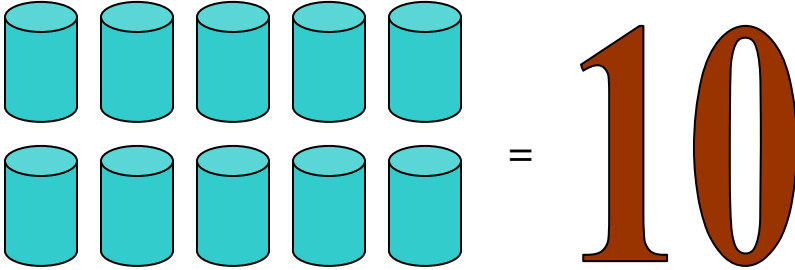


Tuliskanlah angka 9

Warnailah dengan warna merah

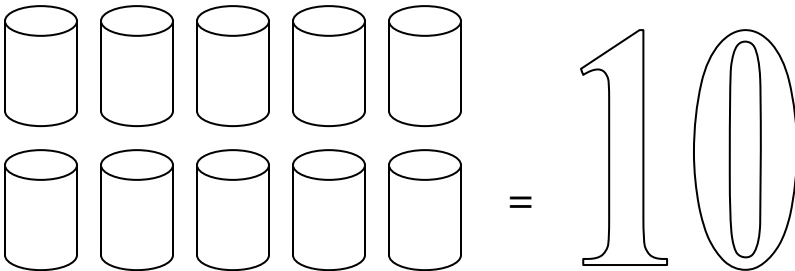


Berapakah banyaknya gambar tabung di bawah ini?



Tuliskanlah angka 9

Warnailah dengan warna coklat tua




Latihan

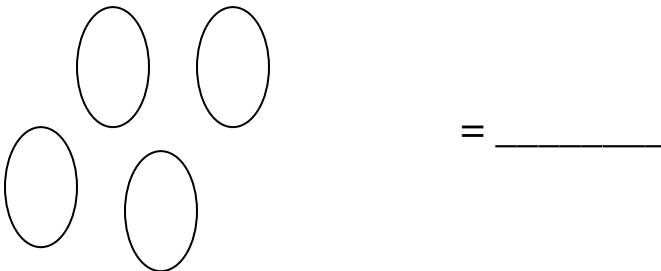
Berapa banyak lingkaran di bawah ini?




Berapa banyak matahari di bawah ini?



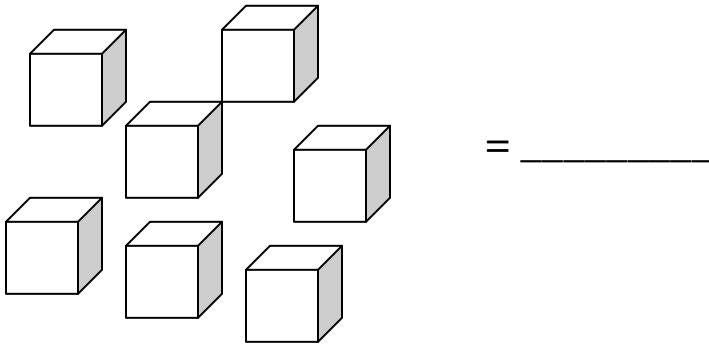
Berapakah banyak bentuk oval di bawah ini?



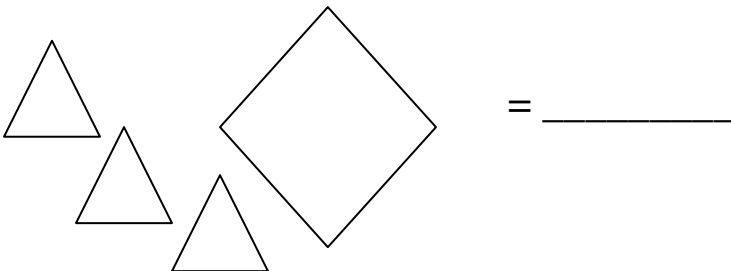
Berapakah banyak bintang di bawah ini?



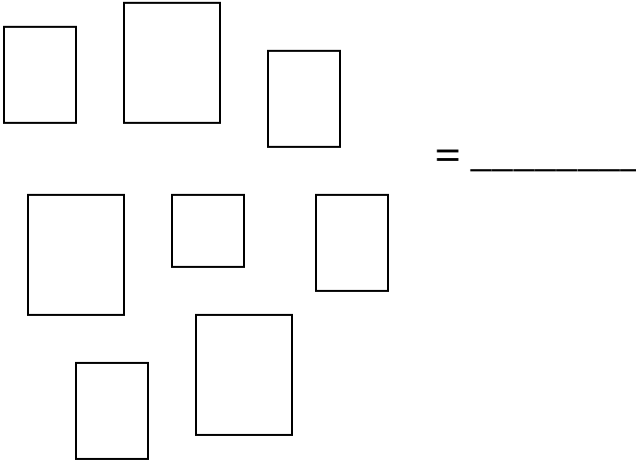
Berapa banyak kotak di bawah ini?



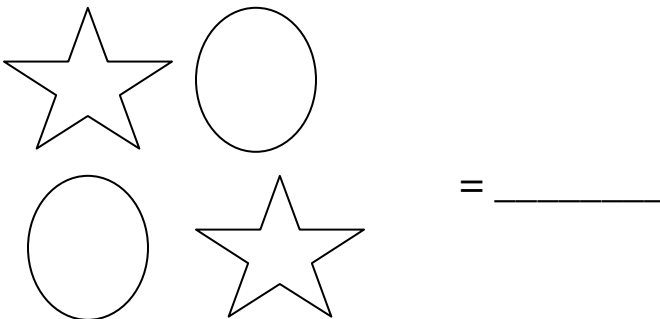
Berapa banyak gambar belah ketupat dibawah ini?



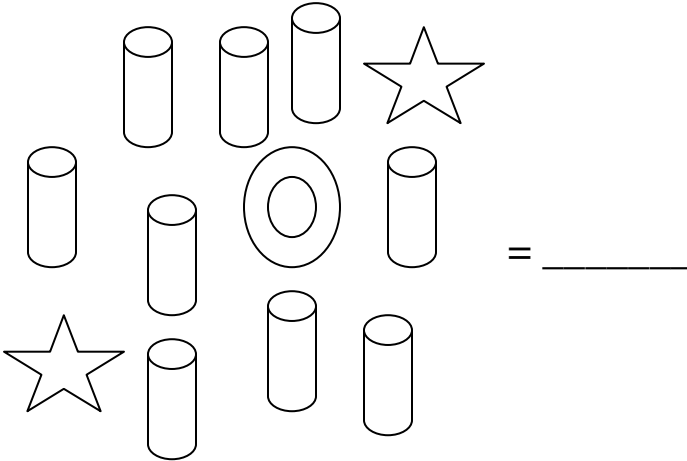
Berapa banyak bentuk segi empat di bawah ini?



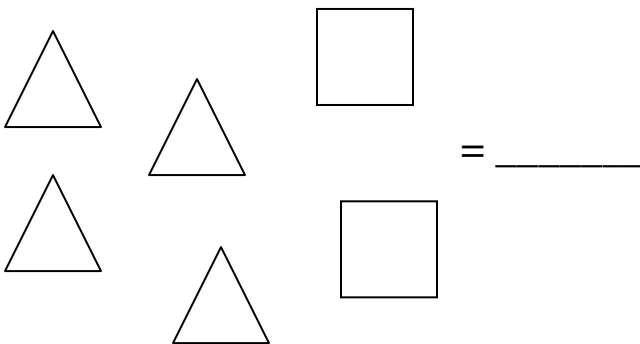
Berapakah banyak bintang di bawah ini?



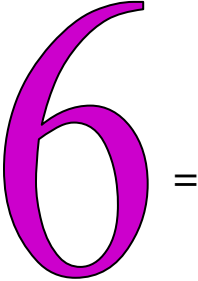
Berapa banyak gambar tabung di bawah ini?



Berapa banyak gambar segi tiga di bawah ini?



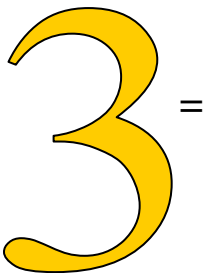
Gambarlah bintang sebanyak angka di bawah ini:



Gambarlah segi tiga sebanyak angka di bawah ini




Gambarlah lingkaran sebanyak angka di bawah ini



Gambarlah segi empat sebanyak yang engkau inginkan, dan tuliskanlah angka yang sama dengan banyaknya gambarmu.

Berapakah banyaknya gambar matahari di bawah ini, dan berapa banyaknya gambar lingkaran?



Matahari =

Lingkaran =