



Aku Dapat



Berpakaian



Tingkat 2

aku dapat bohong - 2

Disusun oleh:
Ummu Abdullah

Sampul oleh:
Ummu zaidan

Disebarluaskan melalui

Maktabah Raudhah al-Muhibbin













e-Mail:
raudhatul.muhibbin@blogspot.com

Tanpa copyright, TIDAK untuk tujuan KOMERSIL

بِسْمِ اللّٰهِ الرَّحْمٰنِ الرَّحِیْمِ

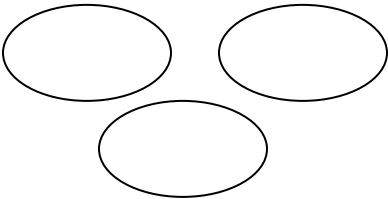
Jumlahkanlah bintang-bintang di bawah ini.


1.		+		= _____
2.		+		= _____
3.		+		= _____
4.		+		= _____
5.		+		= _____


Jumlahkanlah angka-angka berikut kemudian buatlah jawabanmu dalam bentuk lingkaran

1. $2 + 3 = \underline{\hspace{2cm}}$
2. $1 + 6 = \underline{\hspace{2cm}}$
3. $4 + 2 = \underline{\hspace{2cm}}$
4. $5 + 3 = \underline{\hspace{2cm}}$
5. $1 + 1 = \underline{\hspace{2cm}}$
6. $7 + 3 = \underline{\hspace{2cm}}$
8. $8 + 1 = \underline{\hspace{2cm}}$

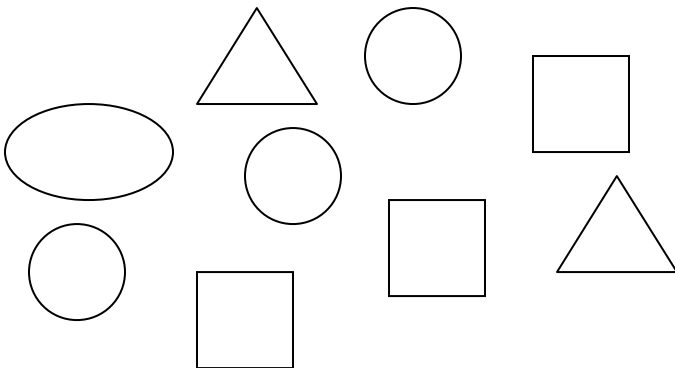
Hitunglah dan tuliskan jumlah bentuk-bentuk dibawah ini, lalu warnailah sesuai keinginanmu.

1.  = _____

2.  = _____




Berapakah jumlah segi tiga di bawah ini? _____




Jumlahkanlah bentuk-bentuk di bawah ini dan berilah warna sesuai yang engkau inginkan

1. $\triangle \triangle \triangle \triangle + \triangle \triangle = \underline{\quad}$
2. $\square \square \square + \square \square \square = \underline{\quad}$
3. $\bigcirc \bigcirc \bigcirc \bigcirc \bigcirc + \bigcirc \bigcirc \bigcirc = \underline{\quad}$
4. $\heartsuit \heartsuit + \heartsuit \heartsuit + \heartsuit = \underline{\quad}$
5. $\smile \smile \smile \smile \smile + \smile \smile \smile = \underline{\quad}$

Manakah bentuk-bentuk dibawah ini yang jumlahnya sama dengan angka **3** ? Tunjukkan jawabanmu dengan memberikan warna yang sama.



Berapakah jumlah jagung di dalam gambar dibawah ini?



= jagung

Jumlahkanlah pohon-pohon di bawah ini



+



+



= pohon

Ibu memberiku 3 buah tomat


Ayah juga memberiku 2 buah tomat

+


Sekarang aku memiliki tomat sebanyak buah

Alhamdulillah, ibu menghadiahkan sesuatu untukku di dalam kantong. Semuanya ada 7 buah. Apa yah, kira-kira isinya? Kalian bisa membantuku menebaknya? Yuk, kita periksa isi kantongnya.!

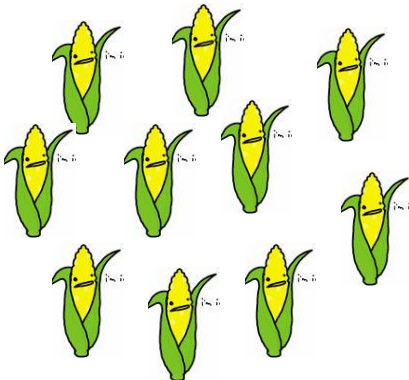
Apakah isinya tomat?




Apakah isinya bunga?



Apakah isinya jagung?




Apakah isinya apel?




Jadi, isi kantongku adalah


Hari Minggu, aku dan kakak menanam 5 bunga



Hari Senin, kami menanam bunga lagi



Semua bunga yang kami tanam tumbuh subur, jumlahnya 10. Apakah kalian tahu, berapa bunga yang kami tanam pada hari Senin?




5

+ =

10

Aku punya sebuah kantung, yang hanya bisa diisi 6 buah benda yang sama. Padahal di bawah ini banyak sekali kan? Kalian bisa membantu memilihkan 6 benda itu?



Untuk membantumu, hitunglah dulu masing-masing benda tersebut, lalu engkau akan tahu jawabannya



=



=



=



=




=

Jadi, kotaku sebaiknya kuisi apa ya?

Gampang kan? Yuk kita coba lagi!

Kami akan pergi piknik ke pantai, aku ditugaskan ibu mengisi tasku sendiri, dan memilih 2 jenis makan yang dapat masuk ke tasku. Tasku hanya muat untuk 8 makanan saja. Apa yang harus aku pilih?



Agar lebih mudah, yuk kita hitung sama-sama jumlah setiap jenisnya.



=



=



=



=



=

..... + = 8

Jadi, tasku dapat kuisi dengan dan

ALHAMDULILLAH